



સાર્વજનિક એજ્યુકેશન સોસાયટી, સુરત.
માધ્યમિક તથા ઉચ્ચતર માધ્યમિક શાળાઓ
પ્રથમ સામયિક પરીક્ષા - ૨૦૧૯



તારીખ :- ૨૧/૧૦/૨૦૧૯
સમય :- ૧.૦૦ થી ૨.૦૦





ધોરણ - ૧૦ [G.M.]
કમ્પ્યુટર

બેઠક નં. _____
કુલ ગુણ :- ૫૦

- (1) HTML નું પૂરું નામ _____ ?
(a) Hot Text Manipulation Language (b) Hyper Text Manipulation Law
(c) Hyper Text Markup Language (d) Hidden Text Markup Language
- (2) _____ વિકલ્પ ખાલી ટેગ રજૂ કરે છે, જેમાં કોઈ લખાણની જરૂર પડતી નથી ?
(a) Compete (b) Empty (c) Null (d) Void
- (3) SGML નું પૂરું નામ કયું છે ?
(a) Standardized General Markup Language
(b) System General Manipulation Law
(c) Standardized Genome Markup Law
(d) Standarized Gigabyte Markup Language
- (4) HTML દસ્તાવેજમાં કયા પ્રકારની માહિતી સમાવી શકાય ?
(a) મલ્ટીમીડિયા માહિતી (b) શાબ્દિક માહિતી
(c) ફાઈલનામનું પથનામ અને ફાઈલનું નામ (d) આપેલ તમામ
- (5) HTML દસ્તાવેજને સુધારવા માટે નીચેના પૈકી કયું એડિટર છે ?
(a) SciTE (b) BriTE (c) LigHT (d) SprITE
- (6) HTML દસ્તાવેજમાં નીચેનામાંથી કયા વિભાગમાં મેટા-ટેગ લખવામાં આવે છે ?
(a) Body (b) Code (c) Head (d) Special
- (7) વેબપેઈજનું શીર્ષક નીચેનામાંથી કયા ટેગમાં આવરીને દર્શાવાય છે ?
(a) <P> અને </P> (b) <body> અને </body>
(c) <title> અને </title> (d) <h1> અને </h1>
- (8) HTML કોડમાં મુલાકાત લેવાઈ ગયેલ (visited) લિન્ક ગોઠવવા નીચેનામાંથી શું ઉપયોગમાં લેવાય છે ?
(a) alink (b) vlink (c) before link (d) after link
- (9) HTML કોડમાં રંગ દર્શાવવા માટે નીચેનામાંથી શું ઉપયોગમાં લેવાય છે ?
(a) સોળઅંકી પદ્ધતિમાં કલરકોડ (b) દશાંશ પદ્ધતિમાં કલરકોડ
(c) કલર મિક્સિંગ મોડેલ (d) ટકાવારીમાં પિકસેલ
- (10) HTML કોડમાં એકિટવ લિન્ક ગોઠવવા માટે નીચેનામાંથી શું ઉપયોગમાં લેવાય છે ?
(a) alink (b) vlink (c) before link (d) after link

- (11) HTML દસ્તાવેજમાં વીડિયો ફાઈલ ઉમેરવા નીચેના પૈકી કયો ટેગ ઉપયોગમાં લેવાય છે ?
 (a) img (b) image (c) href (d) ime
- (12) નીચેનામાંથી કયું માન્ય છબી સ્વરૂપ નથી ?
 (a) Imv (b) Png (c) Bmp (d) Gif
- (13) image map ઉમેરવા માટે નીચેનામાંથી કઈ ટેગ ઉપયોગમાં લેવાય છે ?
 (a) image name (b) Htemp (c) Map (d) Alt
- (14) image એલિમેન્ટ લીટી તોડતા નથી, આને નીચેનામાંથી કયા નામે ઓળખવામાં આવે છે ?
 (a) ઓનલાઈન ઈમેજ (b) ઈનલાઈન ઈમેજ (c) આઉટલાઈન ઈમેજ (d) બ્લેન્ક ઈમેજ
- (15) HTML માં દ્વારા નીચેનામાંથી કઈ બાબત નક્કી થાય છે ?
 (a) સાદી યાદી (b) ક્રમબદ્ધ યાદી (c) અક્રમિક યાદી (d) સાદું કોષ્ટક
- (16) યાદીમાંની વિગતોને નીચેનામાંથી કઈ ટેગ ઓળખી કાઢે છે ?
 (a) અને (b) <items> અને </items>
 (c) <object> અને </object> (d) <table> અને </table>
- (17) જ્યારે કોઈ ખાનું એક કરતાં વધુ આડી હરોળમાં વિસ્તરણ પામતું હોય ત્યારે નીચેનામાંથી કયો ગુણધર્મ ઉપયોગમાં લેવાય છે ?
 (a) colspan (b) rowspan (c) span (d) scope
- (18) HTML ની ક્રમબદ્ધ યાદીમાં નીચેનામાંથી કયું બદલી શકાય છે ?
 (a) મુદ્દાઓનો ક્રમ (b) શરૂઆતનો ક્રમ
 (c) ક્રમ માટે સંખ્યાચિહ્નનો પ્રકાર (d) આપેલ તમામ
- (19) બુલેટ્સ વગર યાદી રજૂ કરવા માટે નીચેનામાંથી કઈ ટેગની જોડી ઉપયોગમાં લેવાય છે ?
 (a) અને (b) અને (c) <dt> અને </dt> (d) <pt> અને </pt>
- (20) કેલ્સી નીચેનામાંથી કયા પ્રકારની પેકેજનો નિર્દેશ કરે છે ?
 (a) સ્પ્રેડશીટ (b) મલ્ટીશીટ (c) ડબલ શીટ (d) એક પાણ નહી
- (21) કેલ્સીમાં બનાવેલી વર્કશીટનું અનુલંબન નીચેનામાંથી શું હોય છે ?
 (a) .ods (b) .odd (c) .xls (d) .obj
- (22) કેલ્સી દસ્તાવેજની વર્કશીટમાં કોઈ વ્યક્તિએ દાખલ કરેલી કિંમતોના સરવાળાની ગણતરી કેવી રીતે કરી શકાય ?
 (a) જાતે ગણતરી કરીને (b) autosum વડે (c) સૂત્ર વડે (d) ઉપરોક્ત તમામ
- (23) નીચેનામાંથી કયો વિનિયોગ કેલ્સી માટે યોગ્ય નથી ?
 (a) સરવૈયું તૈયાર કરવું (b) પરિણામનું વિશ્લેષણ
 (c) કોઈ ઉત્પાદન વિશે માહિતી રજૂ કરવી (d) આપેલા તમામ

- (24) સેલમાં ફક્ત તારીખ જ દાખલ કરવા માટે નીચેનામાંથી કઈ કાર્યરીતિ વપરાય છે ?
 (a) ડેટા ફોર્મેટિંગ (b) ડેટા વેલિડેશન્સ (c) ડેટા ફિલ્ટરિંગ (d) ડેટા સોર્ટિંગ
- (25) જોડણી ચકાસણી માટે કેલ્સીમાં કઈ ફંક્શન કીનો ઉપયોગ થાય છે ?
 (a) F1 (b) F2 (c) F4 (d) F7
- (26) કેલ્સીમાં મદદ મેળવવા માટે નીચેનામાંથી કઈ ફંક્શન કીનો ઉપયોગ થાય છે ?
 (a) F1 (b) F2 (c) F4 (d) F7
- (27) બિનજરૂરી ડેટાને ગાળીને દૂર કરવાની પ્રક્રિયાને શું કહે છે ?
 (a) સોર્ટિંગ (b) સર્ચિંગ (c) ફિલ્ટરિંગ (d) વેલિડેટિંગ
- (28) કેવળ માન્ય ડેટાને જ દાખલ કરવાની પ્રક્રિયાને શું કહે છે ?
 (a) સોર્ટિંગ (b) સર્ચિંગ (c) ફિલ્ટરિંગ (d) વેલિડેટિંગ
- (29) નીચેનામાંથી કઈ રીતે આપણે કેલ્સીમાં વિધેય દાખલ કરી શકીએ ?
 (a) સેલમાં વિધેયનું નામ સીધેસીધું ટાઈપ કરીને
 (b) ફંક્શન વિઝાર્ડ અથવા ટૂલબાર ઉપરથી પસંદ કરીને
 (c) (a) અને (b) બંને (d) વિધેય આધારિત
- (30) વિધેયની શરૂઆત નીચેનામાંથી કયા વિકલ્પ સાથે થાય છે ?
 (a) '=' ચિહ્ન (b) મૂળાક્ષરો (c) સંખ્યા (d) એક પણ નહી
- (31) નીચેનામાંથી કયો તાર્કિક વિધેય નથી ?
 (a) OR (b) AND (c) NOT (d) PROPER
- (32) કેલ્સીનાં વિધેયમાં કેટલા ચલ વાપરી શકાય છે ?
 (a) એક (b) બે (c) ત્રણ (d) વિધેય આધારિત
- (33) વિધેયનો ચલ શું હોઈ શકે ?
 (a) કિંમતો (b) શબ્દિક લખાણ (c) અન્ય વિધેય (d) તમામ
- (34) આલેખ છાપવા માટે નીચેનામાંથી કયો વિકલ્પ વપરાય છે ?
 (a) Insert → chart (b) File → view
 (c) File → Print (d) view → chart
- (35) કેલ્સીમાં બનાવેલા આલેખમાં કેટલા અક્ષ હોઈ શકે ?
 (a) બે (b) ત્રણ (c) બે અથવા ત્રણ (d) ચાર
- (36) આલેખને જોડવા માટે નીચેનામાંથી શું વપરાય છે ?
 (a) એકિટવલિક (b) હાઈપરલિક (c) ડ્રોઈંગલિક (d) કનેક્શન લિક
- (37) ડેટા વિસ્તારમાં ઊભી હરોળ અથવા આડી હરોળને અચળ બનાવવા માટે – નિરપેક્ષ બનાવવા માટે કયું ચિહ્ન વપરાય છે ?
 (a) # (b) \$ (c) & (d) % P.T.O.

- (38) નીચેનામાંથી શેની સાથે કેલ્સી આલેખને જોડી શકાય છે ?
 (a) હયાત દસ્તાવેજ સાથે (b) નવા દસ્તાવેજ સાથે
 (c) વેબ પેઈજ સાથે (d) આપેલા તમામ વિકલ્પો
- (39) ફ્લોચાર્ટની શરૂઆત દર્શાવવા માટે કઈ સંજ્ઞાનો ઉપયોગ થાય છે ?
 (a)  (b)  (c)  (d) 
- (40) નીચેનામાંથી કયું ચિહ્ન ફ્લોચાર્ટમાં શરત તપાસવા માટે વપરાય છે ?
 (a) હીરો (ડાયમંડ) (b) વર્તુળ (સર્કલ) (c) તીર (એરો) (d) ચોરસ (સ્કવેર)
- (41) નીચેનામાંથી શું સમસ્યાના ઉકેલ માટે યોગ્ય ક્રમમાં સૂચનાઓના નિર્દેશ કરે છે ?
 (a) અલ્ગોરિધમ (b) ફ્લોચાર્ટ (c) શ્રેણી (d) રોડમેપ
- (42) નીચેનામાંથી કયું ચિહ્ન ફ્લોચાર્ટમાં અંત દર્શાવવા માટે વપરાય છે ?
 (a) વર્તુળ (b) હીરો (c) ગોળ ખૂણવાળો લંબચોરસ (d) ચોરસ
- (43) નીચેનામાંથી કઈ સમસ્યાના ઉકેલની તકનિક નથી ?
 (a) સુડો કોડ (b) ફ્લોચાર્ટ (c) અલ્ગોરિધમ (d) શ્રેણી
- (44) ફ્લોચાર્ટમાં તીરનું ચિહ્ન શું બતાવવા વપરાય છે ?
 (a) કાર્યના પ્રવાહની દિશા (b) કાર્યનો ક્રમ
 (c) કાર્યની શરૂઆત (d) કાર્યની પૂર્ણાહુતિ
- (45) નીચેનામાંથી શું કોઈ પણ કાર્યનો મુખ્ય ભાગ છે ?
 (a) ઈનપુટ (b) આઉટપુટ (c) પ્રક્રિયા (d) અલ્ગોરિધમ
- (46) નીચેનામાંથી ફ્લોચાર્ટમાં જુદા જુદા અનુસંધાન ચિહ્નની જોડી માટે શું વપરાય ?
 (a) તીર (b) મૂળાક્ષરો કે બીજા અક્ષર (c) વર્તુળ (d) હીરાનું ચિહ્ન
- (47) સી પ્રોગ્રામ ફાઈલને કયું અનુલંબન આપવામાં આવે છે ?
 (a) .c (b) .h (c) .s (d) .t
- (48) સી મૂળાક્ષરોને કેટલા વિભાગમાં વર્ગીકૃત કરી શકાય ?
 (a) 0 (b) 2 (c) 4 (d) 8
- (49) સી ભાષામાં નીચેનામાંથી કયો શબ્દ યોગ્ય કી-વર્ડ છે ?
 (a) ofsize (b) sizeof (c) forsize (d) sizefor
- (50) “ = ” નિશાની સી મૂળાક્ષરોના કયા વર્ગમાં સમાવિષ્ટ છે ?
 (a) અક્ષરો (b) ખાલી જગ્યા (c) વિશિષ્ટ ચિહ્નો (d) અંક